

**BAHAGIAN 1: BAHASA MELAYU**  
**(20 MARKAH)**

**BAHAGIAN A**

Gambar di bawah menunjukkan cara-cara menjaga kesihatan.

Tulis lima ayat yang lengkap tentang cara-cara menjaga kesihatan berdasarkan gambar.



1. \_\_\_\_\_  
\_\_\_\_\_
2. \_\_\_\_\_  
\_\_\_\_\_
3. \_\_\_\_\_  
\_\_\_\_\_
4. \_\_\_\_\_  
\_\_\_\_\_
5. \_\_\_\_\_  
\_\_\_\_\_

( 10 markah)

## BAHAGIAN B

Isikan tempat kosong dengan jawapan yang betul

pusingan	bulan	berpandukan	musim	berdasarkan
paksinya	dipertandingkan	aktiviti	mengimbang	tradisional

Gasing merupakan sejenis permainan yang boleh berputar pada \_\_\_\_\_  
sambil mengimbang pada satu titik. Gasing juga merupakan permainan \_\_\_\_\_  
orang-orang Melayu sejak dahulu lagi. Biasanya permainan ini dimainkan selepas  
\_\_\_\_\_ menuai. Permainan gasing \_\_\_\_\_ antara  
kampung. Pemenang dikira \_\_\_\_\_ tempoh masa gasing mereka berputar.

(5 markah)

## BAHAGIAN C

Isi tempat kosong dengan jawapan yang paling sesuai.

1. Guru besar kami \_\_\_\_\_ pingat kepada anggota kadet remaja sekolah dalam majlis itu.  
A. menyepitkan  
B. mengklonkan  
C. mengepinkan  
D. menampalkan
2. Sepasukan anggota polis sedang memburu \_\_\_\_\_ lanun yang sedang bersembunyi di sebuah pulau berhampiran dengan negara jiran.  
A. saki-baki  
B. suku-sakat  
C. serba-serbi  
D. saudara-mara

3. " Usahlah sangsi akan kesetiaan saya kepada negara," kata Raj Kumar kepada Alimin  
Pilih perkataan **sinonim** bagi sangsi.
- A. takut  
B. gelabah  
C. gembira  
D. ragu-ragu
4. Pilih **simpulan bahasa** yang sesuai bagi mengisi tempat kosong.  
Puan Asyikin berbangga kerana anak bongsunya yang \_\_\_\_\_ itu  
diterima melanjutkan pelajaran dalam bidang kedoktoran di New Zealand.
- A. otak cair  
B. puteri lilin  
C. otak udang  
D. lurus bendul
5. Pilih ayat yang betul.
- A. Mangga jus itu kaya dengan vitamin C.  
B. Warna pensel adik dibeli oleh kakak  
C. Cik Alisa bekerja sebagai jururawat di Lembah Pantai Hospital.  
D. Keluarga Amirul menjalankan perusahaan membuat sos cili.

(5 markah)



B. angrily

D. softly

7. He drove too \_\_\_\_\_, so he \_\_\_\_\_ into a tree.

A. quick, crashing

C. quickly, crashed

B. quick, crash

D. quickly, crashes

8. Lisa cuts the papaya \_\_\_\_\_ using a \_\_\_\_\_ knife.

A. gracefully, blunt

C. nicely, rusty

B. quickly, sharp

D. boldly, shiny

9. Monkeys \_\_\_\_\_ to swing from tree to tree.

A. like

C. liked

B. likes

D. liking

10. The floor \_\_\_\_\_ not even, so be careful.

A. were

C. was

B. are

D. is



C. Choose the best answer to fill in the blanks based on the picture. (5 Marks)



A type of food that is very popular in Kelantan and Terengganu is *lok ching*, or fish satay. Pak Abu (1) \_\_\_\_\_ *lok ching* at the night market. He usually cook them on a (2) \_\_\_\_\_. Customers will (3) \_\_\_\_\_ up to buy his satay. A stick of satay (4) \_\_\_\_\_ fifty cents. Pak Abu cooks the satay while his wife (5) \_\_\_\_\_ the packets of satay to the customers. Pak Abu sells many sticks of satay every night.

- |    |           |          |          |           |
|----|-----------|----------|----------|-----------|
| 1. | A sell    | B sold   | C sells  | D selling |
| 2. | A stove   | B grill  | C pot    | D pan     |
| 3. | A queue   | B jump   | C run    | D sit     |
| 4. | A costing | B costed | C costs  | D cost    |
| 5. | A give    | B gave   | C giving | D gives   |

**BAHAGIAN 3: MATEMATIK  
(20 MARKAH)**

**A. Bulatkan jawapan yang betul.(10 Markah)**

1

36 409

Apakah nilai tempat bagi digit 3 dalam nombor itu?

- A Puluh ribu
- B Ribu
- C Ratus
- D Puluh

2 Antara berikut, yang manakah apabila dibundarkan kepada **ribu terdekat** menjadi 35 000?

- A 34 276
- B 34 451
- C 35 168
- D 35 543

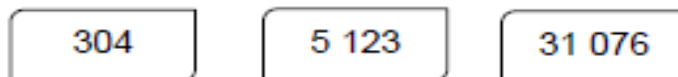
3  $72\,103 + 8\,937 + 64 = \underline{\hspace{2cm}}$

- A 81 004
- B 81 104
- C 81 131
- D 82 004

4 “Enam perpuluhan sifar satu tiga” ditulis dalam angka ialah

- A 60.013
- B 6.13
- C 6.031
- D 6.013

5 Rajah 1 menunjukkan tiga keping kad nombor.



Bentuk satu nombor menggunakan nilai digit bagi digit 3 daripada setiap kad nombor itu?

- A 30 033
- B 30 303
- C 30 330
- D 33 003

6  $0.9 =$

- A 0.9%
- B 9%
- C 90%
- D 900%

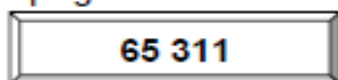
7 2 hari 5 jam = \_\_\_\_\_

- A 125 jam
- B 120 jam
- C 48 jam
- D 53 jam

- 8 Tukarkan  $3\frac{1}{4}$  kepada pecahan tak wajar.
- A  $\frac{7}{4}$
- B  $\frac{9}{4}$
- C  $\frac{13}{4}$
- D  $\frac{14}{3}$
- 9 Antara berikut, yang manakah lebih kecil daripada 61 238?
- A 61 300
- B 61 295
- C 61 240
- D 61 235
- 10 Antara berikut, yang manakah disusun mengikut tertib menaik?
- A 10 123, 11 123, 11 231, 20 113
- B 10 123, 11 231, 11 123, 20 113
- C 20 113, 11 231, 11 123, 10 123
- D 20 113, 11 123, 11 231, 10 123

**B. Jawab soalan berikut. Tunjukkan jalan pengiraan. (10 Markah)**

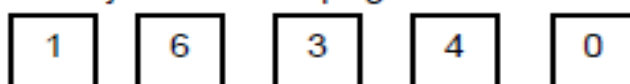
1 Rajah 1 menunjukkan sekeping kad nombor.



Rajah 1

- (i) Tuliskan nombor itu dalam perkataan.  
.....  
(1 Markah)
- (ii) Tulis nilai tempat bagi digit 6 pada nombor itu.  
.....  
(1 Markah)
- (iii) Bundarkan nombor itu kepada ratus yang terdekat.  
.....  
(1 Markah)

2 Rajah 2 di bawah menunjukkan lima keping kad nombor.



Rajah 2

- (i) Berdasarkan digit-digit pada kad di atas, bentukkan dua nombor 5 digit iaitu satu nombor terbesar dan satu nombor terkecil.  
Nombor terbesar : .....  
Nombor terkecil : .....  
(2 Markah)
- (ii) Hitung hasil tambah dua nombor yang dibentuk dalam soalan (i).  
(2 Markah)

3 Bilangan oren di dalam sebuah kotak ialah 25 biji. Encik Amir membeli 35 biji kotak oren untuk dijual di kedainya.

- (i) Berapakah jumlah oren yang dibeli oleh Encik Amir ? (1 markah)
- (ii) Oren-oren itu kemudiannya dibungkus semula ke dalam peket-peket kecil. Setiap peket berisi 5 biji oren. Hitung bilangan peket yang diperolehi.  
(2 markah)

**BAHAGIAN 4: JAWI**  
**(20 MARKAH)**

1) جاويكن فرکاتان دباره: (5 مرکه)

Jawikan perkataan dibawah: (5 Markah)

1) Ajar

3) Klinik

5) Sakit

Kawan

چونتوه:

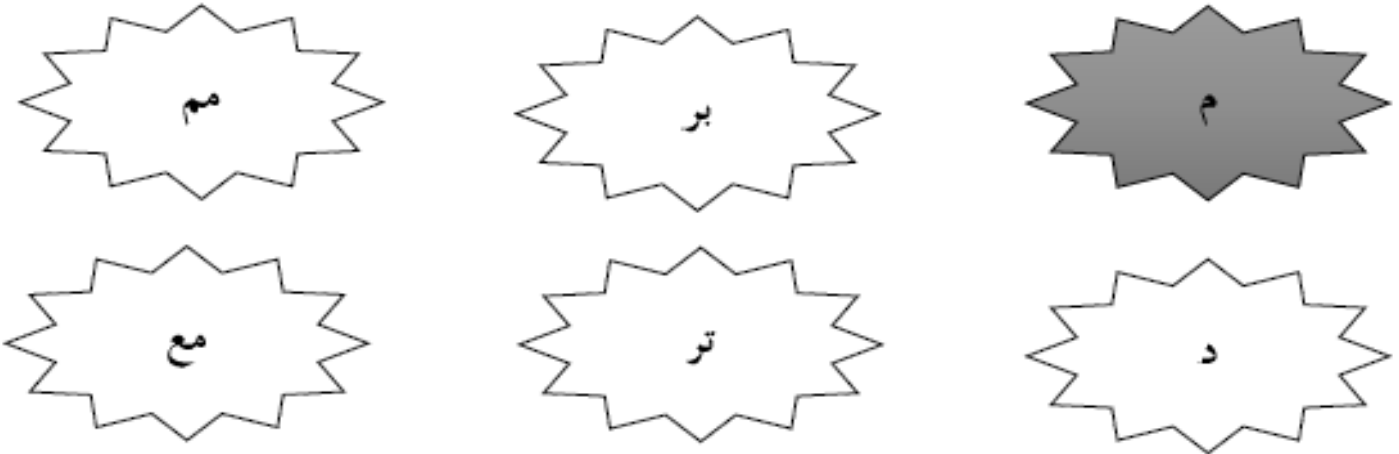
کاون

2) Memburu

4) Jangkitan

(2) فيلپه لکبوھن یغ بتول: (5 مرکه)

Pilih imbuhan yang betul:(5 markah)



ملیھت	لیھت
-------	------

جوئتوہ:

	(1) لاري
	(2) باوا
	(3) ماکن
	(4) کنا
	(5) کوربغ

(3) گاريسكن ايچان يڭ بتول: (4 مرکه)

Gariskan ejaan yang betul :(4 markah)

مکن                      ماکان                      ماکن

سکوله                      سکوله                      سيکوله

مماسق                      ممسق                      مماسک

فینتر                      قینتر                      قیتار

ثنا                      ثلث                      ثلاث

makan                      چوئوه:

sekolah                      (1)

memasak                      (2)

pintar                      (3)

selasa                      (4)

4) سوسون فرکاتان دباوه منجادي ايات يغ بتول: (3 مرکه)

Susun perkataan dibawah menjadi ayat yang betul:(3 markah)

چونتوه: ماسق - سدغ - ناسي - ايو.

[ ايو سدغ ماسق ناسي.

1) ساي - ساورغ - کاکق - کورو.

---

2) أحمد - علي - کاون - مروفاکن - دوا - دان - اورغ - کاريب.

---

3) عريف - موريد - ريغن تولغ - ساورغ - يغ - راجين - دان.

---

(5 روميکن ايات دباره: (3 مرکه)

Rumikan ayat dibawah: (3 markah)

(1 عقل يغ صيحت برمولا دري بادن يغ صيحت.

---

(2 ايو منام قو كوق بتيق دكبونن.

---

(3 رومه اين دفرهوات درقد كاير.

---

**BAHAGIAN 5: BAHASA ARAB**

**(20 MARKAH)**

أ) ضع أسماء الاستفهام المناسبة في الفراغات :- ( ١٠ درجة )  
Isikan tempat kosong dengan tanda tanya yang sesuai.

١. \_\_\_\_\_ رَجَعْتَ مِنْ تَرْجَانُو؟ ( مَنْ / مَتَى / كَيْفَ )
٢. \_\_\_\_\_ حَالُكَ لِلْيَوْمِ؟ ( كَيْفَ / أَيْ / مَا )
٣. \_\_\_\_\_ السَّاعَةُ الْآنَ؟ ( مَاذَا / كَيْفَ / هَلْ )
٤. \_\_\_\_\_ تَشْكُرُ الْآنَ؟ ( لِمَاذَا / أَيْنَ / مَنْ )
٥. \_\_\_\_\_ تُحِبُّ اللُّغَةَ الْعَرَبِيَّةَ؟ ( هَلْ / كَيْفَ / مَتَى )

ب) اُكْتُبِ الْأَفْعَالَ الْآتِيَةَ . ( ١٠ درجة )  
Tuliskan kata kerja berikut.

يَجْلِسُ

يَسْمَعُ

ذَهَبَ

رَجَعَ

يَفْتَحُ

يَأْكُلُ

أَخَذَ

يَطْبِخُ

شَرِبَ

ضَرَبَ

فِعْلُ الْمَضَارِعِ

فِعْلُ الْمَاضِي

.١	.١
.٢	.٢
.٣	.٣
.٤	.٤
.٥	.٥