


**BAHAGIAN 1: BAHASA MELAYU
(25 MARKAH)**

Jawab **SEMUA** soalan. Bulatkan jawapan yang paling sesuai. (20 Markah)

1. Boleh saya pinjam buku tulis_____ini?

- | | | | |
|---|------|---|------|
| A | kamu | C | saya |
| B | dia | D | beta |

Soalan 2 berdasarkan gambar di bawah ini.



2. Datuk saya suka duduk di atas_____ketika menonton televisyen.

- | | | | |
|---|----------------|---|-------------|
| A | tikar getah | C | pondok kayu |
| B | bangku panjang | D | sofa |

3. Semua murid hendaklah_____sebelum masuk ke dalam kelas.

- | | | | |
|---|----------|---|----------|
| A | berlari | C | beratur |
| B | berjalan | D | berhenti |

Soalan 8 berdasarkan gambar di bawah ini.



8. Akid dan Syamil bermain bola sepak_____waktu petang.

A pada

C jika

B lalu

D sejak

9. Encik Saiful memandu_____ke pejabat pada setiap hari.

A kapal terbang

C kereta

B motosikal

D basikal

10. Nabilah_____adiknya pergi ke sekolah dengan berjalan kaki.

A supaya

C tetapi

B kerana

D dan

**Bulatkan jawapan yang paling tepat berdasarkan dialog yang diberi.
(5 Markah)**

Shanti : Selamat pagi, Salma.

Salma : Selamat pagi, Shanti.

Shanti : Saya dengar kamu suka mengumpulkan bahan-bahan pembelajaran pada masa lapang.

Salma : Betul Shanti. Bahan-bahan itu sangat berguna kepada kita.

Shanti : Mengapakah bahan-bahan itu sangat berguna Salma?

Salma : Kita boleh merujuki bahan-bahan itu apabila kita memerlukannya.

Shanti : Kalau begitu, tentu kita tidak akan membuang masa.

Salma : Betul, Shanti. Kerja kita juga akan menjadi lebih mudah.

Shanti : Saya setuju, Salma.

11. Apakah yang dikumpulkan oleh Salma?

A Bahan pembelajaran

C Bahan hiburan

B Bahan kraf tangan

D Bahan masakan

12. Mengapakah bahan-bahan itu perlu dikumpulkan?

A untuk mengisi masa lapang.

B untuk rujukan pembelajaran.

C untuk mengindahkan kawasan sekolah.

D untuk dijadikan kenangan

13. Berikut ialah bahan pembelajaran kecuali

- | | |
|----------------|-------------------|
| A surat khabar | C majalah hiburan |
| B buku teks | D buku latihan |

14. Beri kata lawan bagi perkataan **mudah**

- | | |
|-------------|------------|
| A susah | C senang |
| B berfaedah | D membazir |

15. Bilakah Salma mengumpulkan bahan-bahan pembelajaran?


- | | |
|----------------------|---------------|
| A waktu persekolahan | C waktu rehat |
| B waktu lapang | D waktu subuh |

PART 2: ENGLISH


(25 MARKS)

A. Trace the part of the body. Then, write. (5 marks)


1




2




3



4



5



B. Look at the pictures. Write the correct rules. (10 marks)

We must not litter.

We must queue up to buy food.

We must not eat in the classroom.

We must keep quiet in the library.

We must pay attention in class.

1




2



3



4



5



C. Circle the correct answer. (10 marks)

1. I keep my pencils _____ the box.

A. out

B. to

C. in

2. This is _____ shirt.

A. Ali's

B. Ali

C. he

3. _____ are at the canteen.

A. Their

B. They

C. It

4. These stamps are _____.

A. ours

B. your

C. their

5. My father is big _____ strong.

A. or

B. but

C. and

BAHAGIAN 3: MATEMATIK
(25 MARKAH)

A. Bulatkan jawapan yang betul.(10 Markah)

1 Antara yang berikut, yang manakah mempunyai **nilai terbesar**?

A 590

B 509

C 559

D 595

2 Bundarkan **685** kepada **puluh** yang terdekat.

A 690

B 685

C 680

D 658

3



Apakah **nilai digit** bagi digit **3** di atas?

A 3

C Puluh

B 30

D Sa

4 + 153 = 609

A 382

B 456

C 510

D 523

5 Hasil darab manakah **paling besar**?

A 8×4

B 9×2

C 3×5

D 2×10

6 Antara yang berikut, yang manakah **benar**?

A $540 - 133 = 470$

B $716 - 184 = 523$

C $800 - 221 = 597$

D $925 - 409 = 516$

PEPERIKSAAN PENGESANAN TAHUN 3

7 $\times 4 = 28$

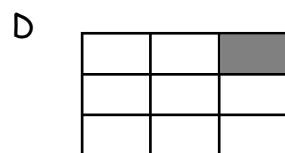
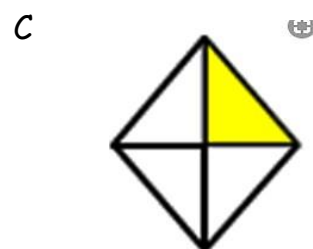
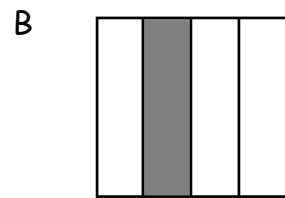
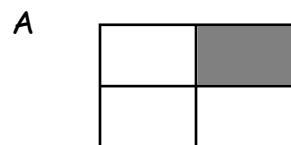
A 3

B 4

C 7

D 8

8 Antara rajah berikut, yang manakah **bukan** menunjukkan satu perempat ?



9

RM7.90

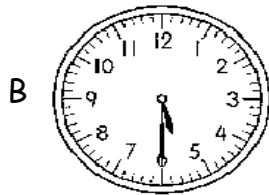
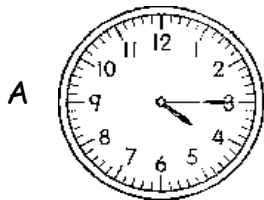


RM13.50

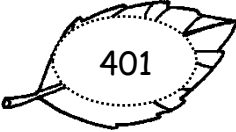

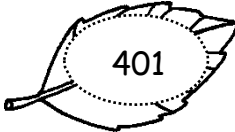









Hitung jumlah harga bagi barangan di atas.

- A RM10.40
- B RM21.40
- C RM23.20
- D RM31.20


10 Antara berikut, yang manakah menunjukkan pukul enam setengah?




B. Warnakan jawapan yang betul.(4 Markah)

1. Seratus empat puluh   
2. Lima ratus tiga belas   
3. Enam ratus tujuh   
4. Empat ratus sebelas   

C. Nyatakan nilai tempat dan nilai digit bagi digit yang bergaris.(4 Markah)

1. 

<u>2</u> 50
Nilai tempat
<input type="text"/>

2 <u>5</u> 0
Nilai digit
<input type="text"/>
2. 

5 <u>7</u> 2
Nilai tempat
<input type="text"/>

57 <u>2</u>
Nilai digit
<input type="text"/>

D. Lengkapkan. (4 Markah)

<p>1.</p> $\begin{array}{r} 254 \\ + 236 \\ \hline \end{array}$	<p>2.</p> $\begin{array}{r} \square 29 \\ + 33 \\ \hline 26 \square \end{array}$
<p>3.</p> $\begin{array}{r} 279 \\ 117 \\ + 397 \\ \hline \end{array}$	<p>4.</p> $\begin{array}{r} 500 \\ - 329 \\ \hline \end{array}$

E. Gariskan jawapan yang betul. (3 Markah)

1.

810 (lebih besar , lebih kecil) daripada 799.

2.

(159 , 200) lebih besar daripada 195.

3.

826 dibundarkan kepada puluh yang terdekat ialah (830 , 820)


BAHAGIAN 4: JAWI

(25 MARKAH)

1) قادنکن فرکاتان رومي کفد جاوي. (8 مرکه)

Padankan perkataan rumi kepada jawi.)8 markah(

دوري	Ubi	چولتوه:
اوبي	Buku)1
ليدي	Paku)0
بوکو	Lidi)3
قاکوايو	Ayu)4
ابي	Duri)5
سوسو	Abi)6
امس	Emas)7
	Susu)8



2) چريکن فرلٹان دباوه سوئاي منجادي سوکوکات. (7 مرکه)

Ceraikan perkataan dibawah supaya menjadi sukukata. (7 markah)

سوت	کا
-----	----

--	--

--	--

--	--

--	--

--	--

--	--

--	--

چوئوہ: کاسوت

بالول)1

ماکن)0

بوئول)3

بومي)4

کاتپل)5

أتوق)6

توکول)7

3) جاوبن فرئقان دباوه. (11 مرئه).

Jawikan perkataan dibawah. (10 markah)

